

UZUPEŁNIA ZESPÓŁ NADZORUJĄCY

KOD UCZNIĄ

| | | |
|--|--|--|
| | | |
|--|--|--|

DATA URODZENIA UCZNIĄ




| | | | | | | | |
|--|--|--|--|--|--|--|--|
| | | | | | | | |
|--|--|--|--|--|--|--|--|

dzień miesiąc rok

miejsce
na naklejkę
z kodem


SPRAWDZIAN W SZÓSTEJ KLASIE SZKOŁY PODSTAWOWEJ „W szkole”

Informacje dla ucznia

1. Sprawdź, czy arkusz egzaminacyjny zawiera 11 stron. Ewentualny brak zgłoś nauczycielowi.
2. Czytaj uważnie wszystkie teksty i zadania.
3. Wszystkie rozwiązania zadań zapisuj długopisem lub piórem.
4. Pisz czytelnie i starannie.
5. Gdy przy zadaniu jest taki znak , to wybierz jedną dobrą odpowiedź i zamaluj wybrany kwadrat, np.:
 - A.
 - B.
 - C.
 - D.
6. Gdy się pomylisz, to otocz błąd kółkiem i zaznacz dobrą odpowiedź, np.:
 - A.
 - B.
 - C.
 - D.
7. Gdy przy zadaniu jest taki znak , to wpisz wyraz lub sam napisz odpowiedź w miejscu kropek. Pomyłki przekreślaj.
8. W zadaniu 26. napisz dłuższy tekst. Napisz co najmniej 5 linii.
9. Gdy przy zadaniu jest taki znak , to musisz policzyć.
Obliczenia i wynik zapisz w miejscu kraterk.
10. Ostatnia strona arkusza jest przeznaczona na brudnopis.
Zapisy w brudnopisie nie będą sprawdzane.
11. Na wykonanie wszystkich zadań masz 60 minut (czas można przedłużyć – nie więcej niż o 30 minut).
12. Za dobre rozwiązanie wszystkich zadań uzyskasz 40 punktów.

Powodzenia!

S-7-072



Tekst I (zadania: 1., 2., 3., 4., 5.)

To było zakończenie roku szkolnego. Przyszliśmy rano do szkoły z naszymi rodzicami, którzy ubrali nas jak pajaców. Mieliśmy granatowe spodnie i białe koszule.

I ja, i reszta chłopaków czekaliśmy z niecierpliwością na rozdanie nagród. Ale nie dlatego, że chcieliśmy je dostać. Czekaliśmy, bo po rozdaniu nagród nie idzie się już do szkoły i są wakacje.

Nagrody były dla wszystkich. Piotr, który jest pierwszym uczniem i ulubieńcem naszej pani, dostał nagrodę z matematyki, nagrodę z historii, nagrodę z geografii, nagrodę z języka polskiego, nagrodę z fizyki i nagrodę za zachowanie. Stefan, który jest ostatni w klasie, dostał nagrodę za koleżeństwo, a ja dostałem nagrodę za mówienie. Tata był bardzo zadowolony, ale później się trochę zmartwił, bo pani powiedziała, że mówię nie tyle ładnie, co dużo.

Po drodze do domu myślałem sobie, że to fajnie, że szkoła się skończyła, że nie będzie lekcji ani ćwiczeń, ani kar, ani zabawy na przerwach i że teraz nie będę widział kolegów przez dwa miesiące, i że nie będziemy się razem bawić, i że będę się czuł okropnie sam.

– Cóż to, Mikołaju – powiedział tata – nic nie mówisz? Przecież zaczęły się twoje wymarzone wakacje!

Wtedy zacząłem płakać i tata powiedział, że ze mną można zwariować.



1. Chłopcy na zakończenie roku szkolnego przyszli ubrani w

- A. zielone spódnice i żółte bluzki.
- B. zielone spodnie i żółte koszule.
- C. granatowe spódnice i białe bluzki.
- D. granatowe spodnie i białe koszule.



2. Uczniowie na zakończenie roku szkolnego otrzymali

- A. prezenty.
- B. nagrody.
- C. kwiaty.
- D. cukierki.



3. Mikołaj dostał nagrodę za to, że

- A. dobrze się zachowywał.
- B. pilnie i dużo uczył się.
- C. dużo i chętnie mówił.
- D. ładnie i wyraźnie mówił.



4. Do domu Mikołaj wracał razem

- A. z mamą.
- B. ze Stefanem.
- C. z Piotrem.
- D. z tatą.



5. Kto opowiada o zakończeniu roku szkolnego i rozdaniu nagród?

- A. Tata.
 - B. Mikołaj.
 - C. Piotr.
 - D. Stefan.
-



6. Mikołaj po zakończeniu roku szkolnego wyjeżdża z rodzicami na wakacje do Giżycka. Gdzie najlepiej sprawdzi, czy blisko Giżycka jest jezioro?

- A. W słowniku języka polskiego.
 - B. Na mapie Europy.
 - C. W kalendarzu na rok 2007.
 - D. Na mapie okolic Giżycka.
-

Tekst II (zadania: 7., 8., 9.)

I nowa bije już godzina,
Nowy rok szkolny się zaczyna,
Już czeka szkoła i koledzy,
I w książkach – zasób nowej wiedzy.
Jakżeż lubiłem w młodych latach
Pod koniec upalnego lata
Do miłej szkoły biec z tornistrem
I łowić wszystko wzrokiem bystrym.
Szkoła! Marzenie najgorętsze!
Gdzie klasa jest? Na którym piętrze?
Gdzie moja ławka? W którym rzędzie?
Kto obok w ławce siedzieć będzie?

Jan Brzechwa



7. Co jest treścią wiersza?

- A. Wyjazd na ferie zimowe z rodzicami.
- B. Powrót do szkoły po feriach zimowych.
- C. Powrót do szkoły po wakacjach letnich.
- D. Wyjazd jesienią na szkolną wycieczkę.



8. Podmiot mówiący w tym wierszu

- A. wspomina szkołę po latach.
- B. jest uczniem klasy szóstej.
- C. opowiada o swoim synku.
- D. nie chce wracać do szkoły.



9. Pytania zawarte w trzech ostatnich wersach wiersza świadczą o tym, że podmiot mówiący był

- A. znudzony.
 - B. zaciekawiony.
 - C. zasmucony.
 - D. zawstydzony.
-

Tekst III (zadania 10. i 11.)

CZY WIESZ, ŻE...

Pierwsza w Polsce szkoła dla niesłyszących powstała w roku 1817 w Warszawie. Jej założycielem i pierwszym dyrektorem był ksiądz Jakub Falkowski. Szkoła ta istnieje do dziś. Nadal uczą się w niej niesłyszące dzieci.



10. W którym wieku powstała pierwsza w Polsce szkoła dla niesłyszących?

- A. XVII
- B. XVIII
- C. XIX
- D. XX



11. Którą rocznicę założenia będzie obchodziła ta szkoła w roku 2017?

- A. Osiemdziesiątą.
 - B. Dziewięćdziesiątą.
 - C. Setną.
 - D. Dwusetną.
-



12. Uczniowie przygotowują wystawę historyczną na temat średniowiecza.

Które z przedmiotów można pokazać na wystawie?

- A. Kubek i długopis.
 - B. Piła i telefon.
 - C. Miecz i zbroja.
 - D. Moneta i radio.
-

Tekst IV (zadania 13. i 14.)

Kartka z kalendarza

| KWIECIEŃ | | | | | |
|-----------------|----------|----------|-----------|-----------|-----------|
| Pn | 2 | 9 | 16 | 23 | 30 |
| Wt | 3 | 10 | 17 | 24 | |
| Śr | 4 | 11 | 18 | 25 | |
| Cz | 5 | 12 | 19 | 26 | |
| Pt | 6 | 13 | 20 | 27 | |
| So | 7 | 14 | 21 | 28 | |
| N | 1 | 8 | 15 | 22 | 29 |



13. W każdą środę uczniowie klas szóstych chodzą na basen. Ile razy będą na basenie w kwietniu?

- A. 3 razy.
- B. 2 razy.
- C. 5 razy.
- D. 4 razy.

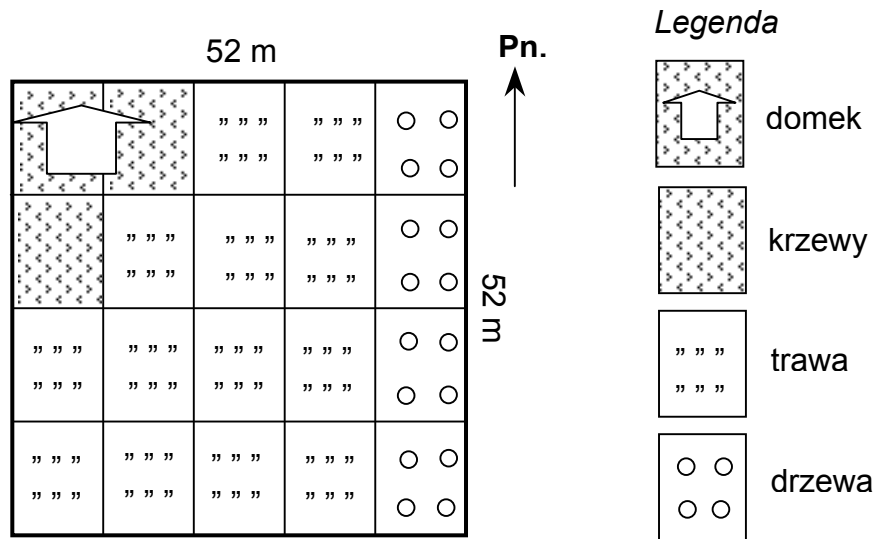


14. Uczniowie pojedą na wycieczkę 3 i 4 maja. Jakie to będą dni tygodnia?

- A. Środa i czwartek.
 - B. Sobota i niedziela.
 - C. Piątek i sobota.
 - D. Czwartek i piątek.
-

Tekst V (zadania: 15., 16., 17.)

Plan ogrodu szkolnego



15. Ogród szkolny ma kształt kwadratu. Jaki jest obwód tego ogrodu?

- A. 260 m
- B. 208 m
- C. 156 m
- D. 104 m




16. W jakiej części ogrodu jest domek?

- A. Północno-zachodniej.
- B. Północno-wschodniej.
- C. Południowo-zachodniej.
- D. Południowo-wschodniej.



17. Jaką część ogrodu zajmują drzewa?

- A. $\frac{1}{5}$
- B. $\frac{1}{4}$
- C. $\frac{3}{4}$
- D. $\frac{4}{5}$



24. Podkreśl 3 adresy stron internetowych, na których Maciek powinien szukać informacji i zdjęć do gazetki szkolnej na temat wiosennych roślin.

www.w-ogrodzie.pl

www.odkrycia-geograficzne.pl

www.mieszkania.pl

www.zdrowie.pl

www.przyroda-polska.pl

www.oznaki-wiosny.pl



25. Co w szkole lubisz najbardziej i dlaczego?

.....

.....

.....

.....



26. Opisz koleżankę lub kolegę ze szkoły. *Napisz co najmniej 5 linii.*

.....

.....

.....

.....

.....

.....

.....

.....

.....

.....

.....

.....

.....

.....

.....

.....

.....

.....

.....

.....

.....

.....

.....

Brudnopsis

